

PROVINHA BRASIL

Avaliando a alfabetização

Nome: _____

CADERNO DO ALUNO

MATEMÁTICA • TESTE 1

2016


INEP



Ministério da
Educação

GOVERNO FEDERAL
BRASIL
PÁTRIA EDUCADORA

Questão-exemplo



6

7

8

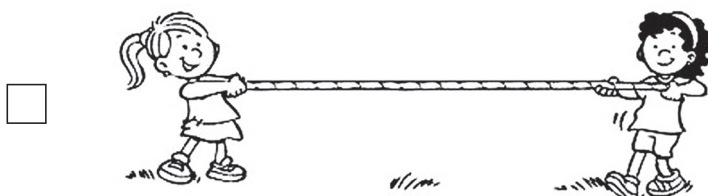
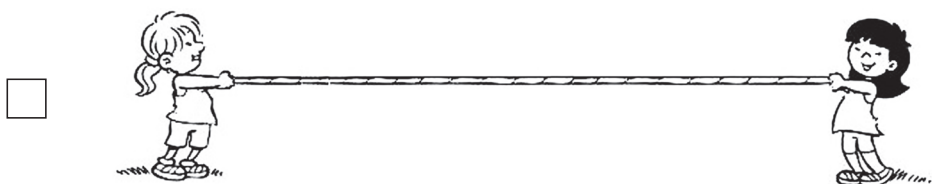


9

Questão 1



- 2 REAIS.
- 5 REAIS.
- 10 REAIS.
- 20 REAIS.

Questão 2



Questão 3



7

6

5

2

Questão 4



Questão 5

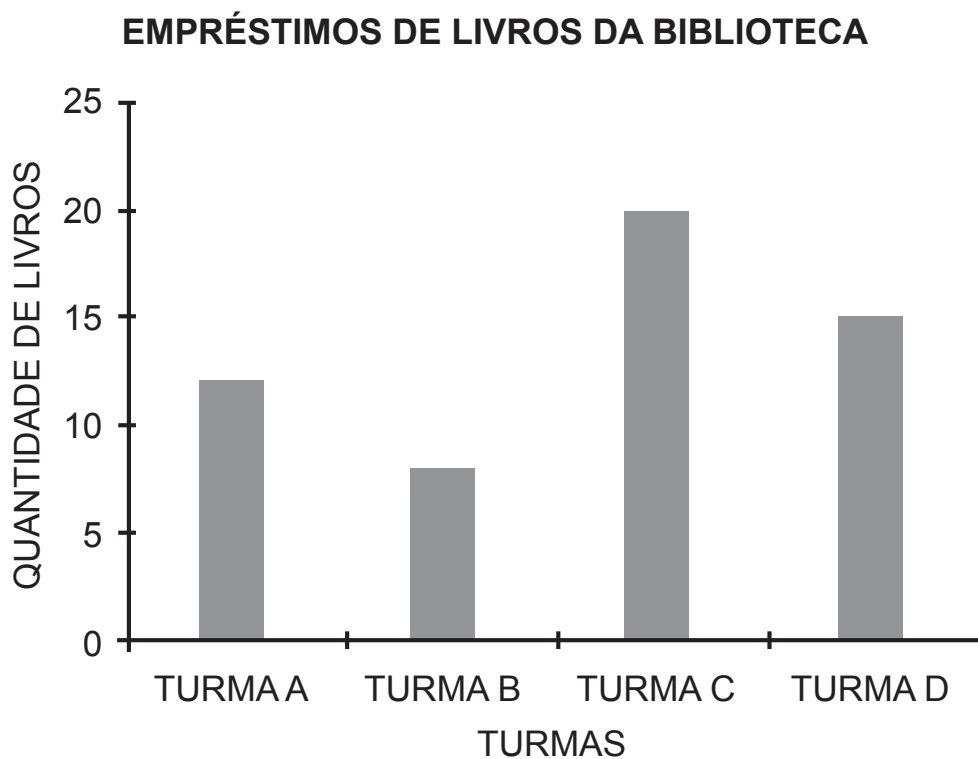
4

6

10

16

Questão 6







- TURMA A.
- TURMA B.
- TURMA C.
- TURMA D.

Questão 7




Questão 8

PROFISSÕES	QUANTIDADE
	6
	9
	17
	15



Questão 9



6

7

8

9

Questão 10

ANIMAIS DO VOVÔ

ANIMAL	QUANTIDADE
	7
	9
	5
	1



Questão 11

1

4

5

9


Questão 12

DEZEMBRO

DOMINGO	SEGUNDA	TERÇA	QUARTA	QUINTA	SEXTA	SÁBADO
	1	2	3	4	5	6
7	8	9	10	11	12	13
14	15	16	17	18	19	20
21	22	23	24	25	26	27
28	29	30	31			

- TRINTA E UM.
- VINTE E NOVE.
- NOVE.
- DOIS.

Questão 13



8

6

4

2

Questão 14

79

97

790

907

Questão 15

20

34

28

32

20

34

28

32

Questão 16

DIEGO TEM 6 CARRINHOS E JOÃO TEM 2.

FAÇA UM X NO QUADRADINHO QUE INDICA QUANTOS CARRINHOS FALTAM PARA QUE JOÃO TENHA A MESMA QUANTIDADE QUE DIEGO.

8

6

4

2

Questão 17

BIANCA RESOLVEU DIVIDIR DEZ LÁPIS EM DOIS ESTOJOS,
COLOCANDO A MESMA QUANTIDADE EM CADA UM.



FAÇA UM X NO QUADRADINHO QUE REPRESENTA O NÚMERO DE
LÁPIS QUE BIANCA COLOCOU EM CADA ESTOJO.

2

5

10

20

Questão 18

VEJA O CALENDÁRIO DO MÊS DE JANEIRO.

JANEIRO						
D	S	T	Q	Q	S	S
			1	2	3	4
5	6	7	8	9	10	11
12	13	14	15	16	17	18
19	20	21	22	23	24	25
26	27	28	29	30	31	

PEDRO VAI DAR UMA FESTA NO ÚLTIMO DOMINGO DESSE MÊS.

FAÇA UM X NO QUADRADINHO QUE MOSTRA O DIA DA FESTA DE PEDRO.

12

25

26

31

Questão 19



Questão 20

